


Mirela Ilie
Marilena Nedelcu
Emilia Micloi
Gabriela Mureșan

Mă pregătesc pentru
concursuri de
matematică

clasa
pregătitoare

Testul 1

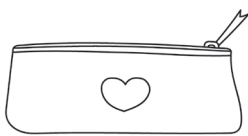
1. PRIVEȘTE IMAGINEA. CÂTE GRUPE DE 3 FLUTURAȘI SE POT FORMA?



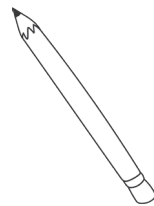
- A. 1; B. 2; C. 3; D. 0.

2. GĂSEȘTE CE NU SE POTRIVEȘTE!

A.



B.



C.



D.




3. PE ULTIMA CARTE VEI SCRIE:



- A. 8; B. 6; C. 4; D. 2.

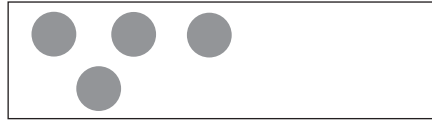
4. ÎNCERCUIEȘTE DOAR LEGUMELE:



CÂTE LEGUME AI DESCOPERIT?

- A. 4; B. 5; C. 6; D. 7.

5. CÂTE BULINE TREBUIE SĂ MAI DESENEZI PENTRU CA MULȚIMEA SĂ AIBĂ 10 ELEMENTE?



- A. 5; B. 3; C. 6; D. 4.


6. ÎNCERCUIEȘTE TOATE NUMERELE MAI MICI DECÂT 8.



AI GĂSIT _____ NUMERE.

- A. 4; B. 7; C. 6; D. 5.

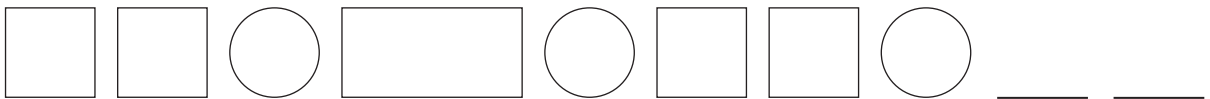
7. NUMERELE MAI MARI DECÂT 5 ȘI MAI MICI DECÂT 8 SUNT:



- A. 6, 7; B. 5, 6; C. 7, 8; D. 8, 9.

Exceleență

8. OBSERVĂ ȘIRUL FIGURILOR GEOMETRICE. URMĂTOARELE DOUĂ FIGURI SUNT:



9. ORDONEAZĂ DESCRESCĂTOR NUMERELE SCRISE PE CADOURI.



A. 10, 9, 8, 6, 2;




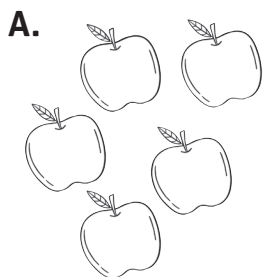
C. 9, 8, 10, 6, 2;

B. 10, 8, 6, 9, 2;

D. 2, 6, 8, 9, 10.

Testul 2

1. MULȚIMEA CARE ARE CELE MAI PUȚINE ELEMENTE ESTE:



2. ALEGE ANIMALUL CARE URMEAZĂ:





A. VEVERIȚĂ;

B. VULPE;

C. URS;

D. IEPURE.

3. ÎNCERCUIEȘTE CE NU SE POTRIVEȘTE:



4. CÂTE FLORI TREBUIE SĂ MAI DESENEZI PENTRU CA MULȚIMEA SĂ AIBĂ 8 ELEMENTE?



A. 3;

B. 2;

C. 5;

D. 4.

5. CARE SUNT VECINII IEPURAȘULUI?




A. 6 și 8;

B. 8 și 9;

C. 5 și 8;

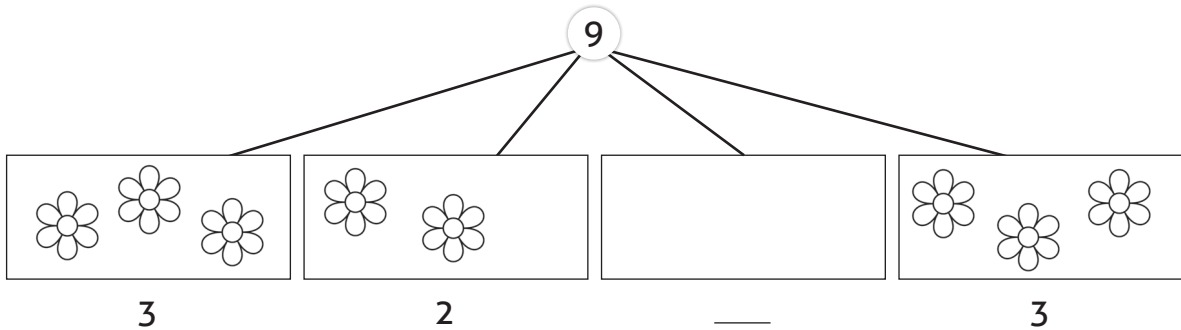
D. 9 și 10.

6. NUMERELE DE PE FRUNZE AȘEZATE ÎN ORDINE DESCRESCĂTOARE SUNT:



- A. 0, 3, 7, 8, 9; B. 9, 7, 3, 0, 8; C. 9, 8, 7, 3, 0; D. 0, 3, 8, 7, 9.


7. COMPLETEAZĂ CU NUMĂRUL POTRIVIT:



- A. 2; B. 1; C. 4; D. 3.


Exelență

8. CARE ESTE NUMĂRUL CE URMEAZĂ ÎN ȘIR?



- A. 2; B. 7; C. 3; D. 4.

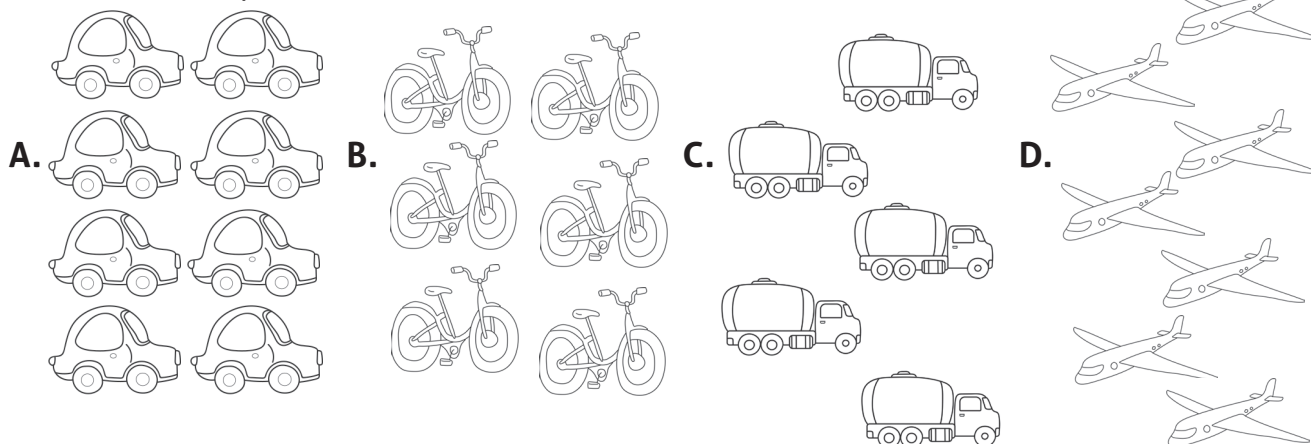
9. ÎNCERCUIEȘTE TOATE NUMERELE MAI MARI DECÂT 4 ȘI MAI MICI DECÂT 10. AI GĂSIT:



- A. 4 NUMERE; B. 7 NUMERE; C. 9 NUMERE; D. 6 NUMERE.

Testul 3

1. CARE ESTE MULȚIMEA CU 7 ELEMENTE?

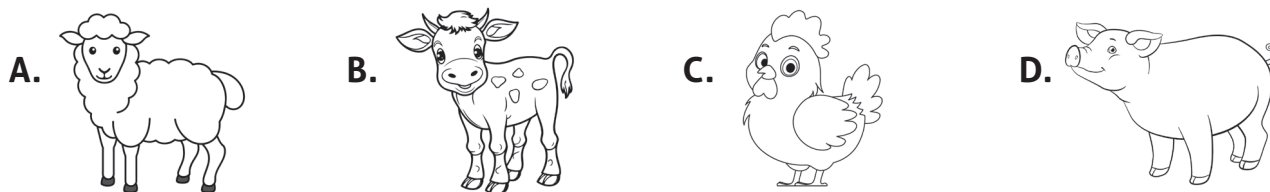


2. A OPTA INSECTĂ DIN ȘIRUL DE MAI JOS ESTE ...



- A. FLUTURE; B. FURNICĂ; C. ALBINĂ; D. BUBURUZĂ.

3. GĂSEȘTE INTRUSUL:


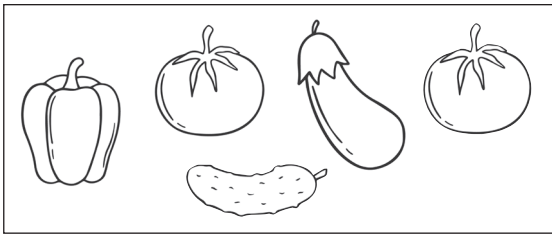


4. CÂTE FLORI TREBUIE SĂ MAI CULEAGĂ MARIA PENTRU A-I FACE MAMEI UN BUCHET DE 7 FIRE?

- A. 2 FLORI; C. 4 FLORI;
B. 3 FLORI; D. 5 FLORI.

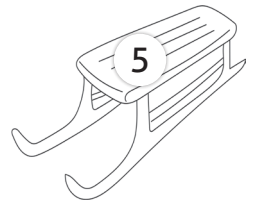
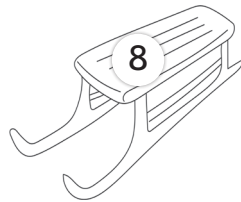

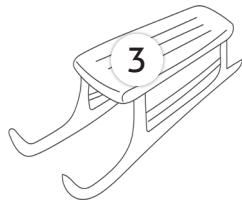
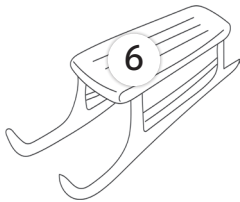


5. DIN A DOUA IMAGINE LIPSEȘTE:




- A. O VÂNĂȚĂ; B. UN ARDEI; C. UN CASTRAVETE; D. O ROȘIE.

6. „VECINUL” MAI MARE AL NUMĂRULUI CEL MAI MIC SCRIS PE SĂNIUȚE ESTE:



- A. 3; B. 4; C. 7; D. 2.


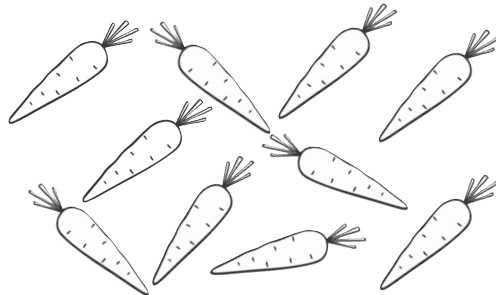
7. INTRUSUL DIN ȘIRUL DE MAI JOS ESTE:



- A. CARTE; B. CREION; C. STILOU; D. PIX.

Exceleență

8. CÂȚI MORCOVI RĂMÂN DACĂ FIECARE IEPURAȘ MĂNÂNCĂ CÂTE 4?



- A. 3 MORCOVI; B. 2 MORCOVI; C. 4 MORCOVI; D. 6 MORCOVI.


9. CE NUMĂR SE ASCUNDE SUB ULTIMA BROSCUȚĂ?



- A. 4; B. 5; C. 8; D. 6.

Testul 4

1. AL CINCILEA FRUCT ESTE...



A. pară;

B. strugure;

C. măr;

D. prună.

2. DESENEAZĂ SUB NORIȘOR ATÂȚIA FULGI CÂȚI SUNT NECESARI PENTRU A FI 5. AI DESESTAT ___ FULGI.



A. 1;

B. 4;

C. 2;

D. 3.

3. ORDONEAZĂ CRESCĂTOR NUMERELE DE PE GLOBULEȚE. ȘIRUL CORECT ESTE:



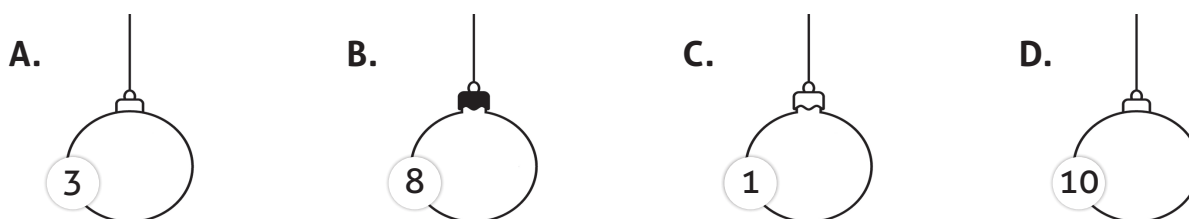
A. 8, 7, 4, 3, 1;

B. 1, 4, 3, 7, 8;


C. 1, 3, 4, 7, 8;

D. 8, 5, 2, 4, 1.

4. COLOREAZĂ CU ROȘU GLOBULEȚUL CU NUMĂRUL CEL MAI MARE.



5. PRIVEȘTE ȘIRUL URMĂTOR ȘI SCRIE NUMĂRUL ASCUNS DE SACUL LUI MOȘ CRĂCIUN. ACESTA ESTE:



A. 6;

B. 7;

C. 8;

D. 9.